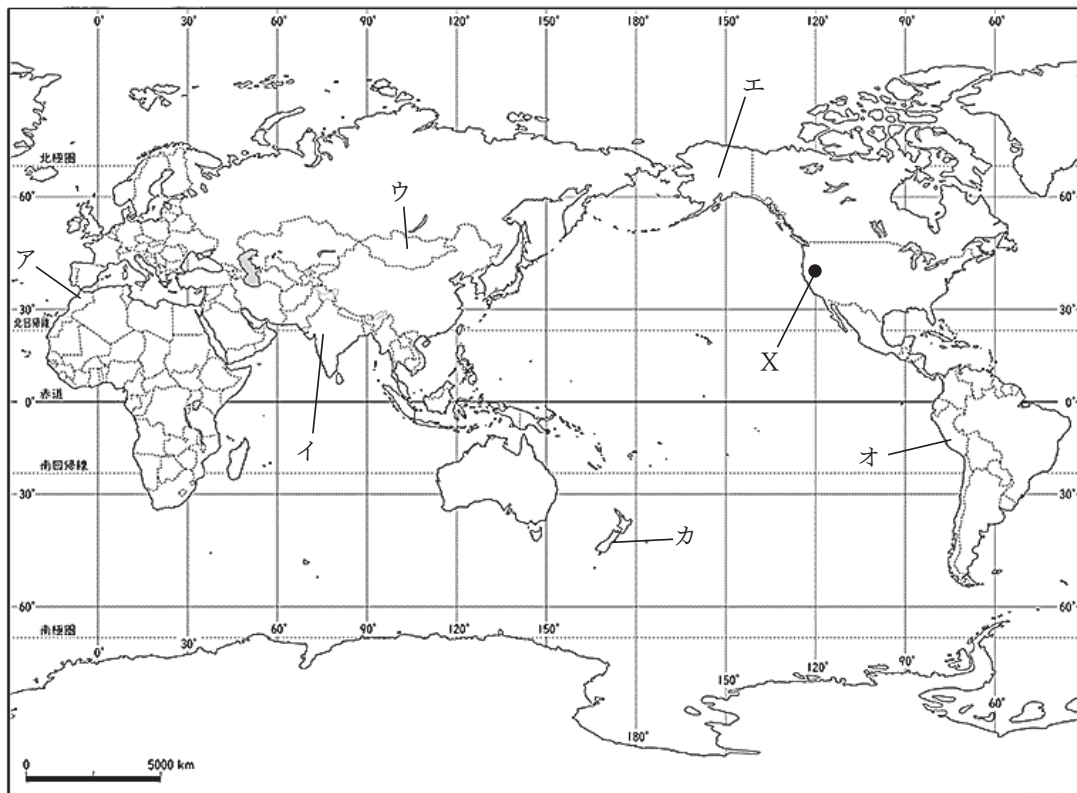


社会

1 あとの問いに答えなさい。



【地図1】

- 問1. 【地図1】をみて、Xのロサンゼルスが12月31日午前8時のとき、日本時間は何月何日の何時か。午前・午後の12時間法で答えなさい。
- 問2. 【資料Ⅰ・Ⅱ・Ⅲ】で示した地域にあてはまるものを、【地図1】のア～カから選び、記号で答えなさい。

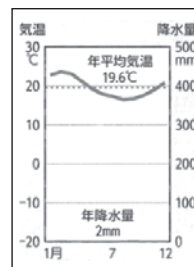
【資料Ⅰ】



【資料Ⅱ】



【資料Ⅲ】



問3. 資料IVは、【地図1】のイ国で人々が沐浴をしている様子である。イ国でもっとも多く信仰されている宗教について、(1) 宗教名、(2) 河川名、(3) 食文化の特徴を正しく組み合わせたものを、次の①～⑥から1つ選び、記号で答えなさい。

【資料IV】



(1) 宗教

ア 仏教 イ ヒンドゥー教 ウ イスラム教

(2) 河川

ア インダス川 イ メコン川 ウ ガンジス川

(3) 食文化

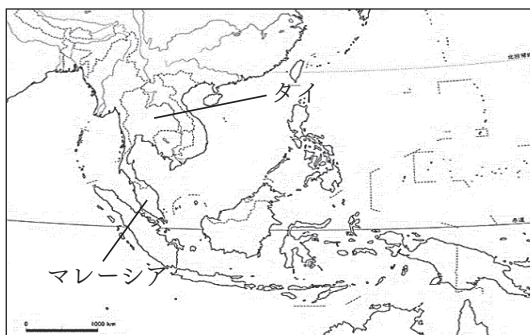
ア 小麦の生産量が世界第2位であり、小麦粉で作られた生地を焼いたものが食べられている。

イ 稲作中心の農業が行われており、米をめんに加工したものが食べられている。

ウ 信仰している宗教により、豚肉を食べない。

	①	②	③	④	⑤	⑥
宗教	ア	ア	イ	イ	ウ	ウ
河川	イ	ウ	ア	ウ	ア	イ
食文化	ウ	イ	ウ	ア	イ	ア

問4. 下のグラフは、【地図2】にあるタイ・マレーシアの輸出上位4品目の割合をあらわしたものである。東南アジアの国々は、労働賃金が安価なため海外の企業を受け入れてきた。工業化の進んだタイやマレーシアのおもな輸出品目は、1980年と2023年を比べるとどのように変化しているか、簡単に答えなさい。



【地図2】

タイの輸出上位4品目と割合 (%)								
1980年	米	14.7%	野菜	11.5%	天然ゴム	9.3%	すず	8.8%
2023年	機械類	31.5%	自動車	11.0%	プラスチック	3.7%	野菜と果実	3.4%

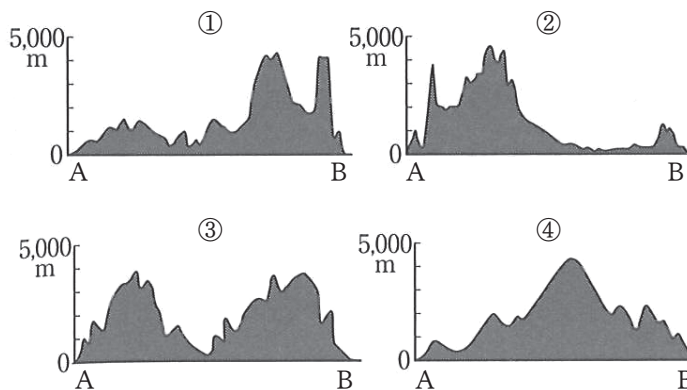
マレーシアの輸出上位4品目と割合 (%)								
1980年	原油	23.8%	天然ゴム	16.4%	機械類	10.7%	木材	9.3%
2023年	機械類	44.3%	石油製品	9.4%	天然ガス	4.2%	精密機器	3.9%


問5. 北アメリカ州について、次の【地図3】を見て、各問いに答えなさい。




【地図3】

- (1) A - B の断面を模式的に示したものを、次の①～④から1つ選び、記号で答えなさい。また、Xの山脈名を答えなさい。



- (2) Cの都市は、かつて鉄鋼などを用いた自動車工業で栄えた都市である。この都市名を次の①～④から1つ選び、記号で答えなさい。また、で囲まれた範囲内にあるすべての湖の総称を答えなさい。

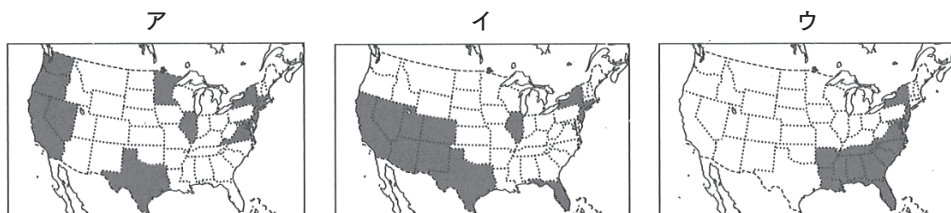
- ① ピッツバーグ ② シカゴ ③ ボストン ④ デトロイト

- (3) Dので発生し、大陸の南東部や西インド諸島に発生する熱帯低気圧を何というか答えなさい。

(4) 【地図3】のEの地域の気候について述べた文として正しいものを、次の①～④から1つ選び、記号で答えなさい。

- ① 高緯度であるため、亜寒帯（冷帯）の気候がみられる。
- ② 岩石や砂の土地が続く乾燥帯の気候がみられる。
- ③ 季節風の影響で夏に湿潤になり、冬に乾燥する温帯の気候がみられる。
- ④ 夏に乾燥し、冬に湿潤となる温帯の気候がみられる。

(5) アメリカ合衆国は、これまでの歴史の中で多民族社会である。次のア～ウは、州ごとの人口構成について、各州のうちヒスパニック系が15%以上、アフリカ系が15%以上、アジア系が5%以上を占める州のいずれかを示したものである。それぞれの州の組み合わせとして正しいものを、次の①～⑥から選び、記号で答えなさい。



ア、イ、ウは、アラスカ州とハワイ州を除いている。
(2024年版「データブック オブ・ザ・ワールド」)

	①	②	③	④	⑤	⑥
ヒスパニック系	ア	ア	イ	イ	ウ	ウ
アフリカ系	イ	ウ	ア	ウ	ア	イ
アジア系	ウ	イ	ウ	ア	イ	ア

2 次の文章を読み、あとの問いに答えなさい。

2025年3月15日で、山陽新幹線は1975年の開業から50年を迎える。開業当時、新大阪駅～博多駅は最速3時間44分で結ばれた。2024年時点で、同区間の最速所要時間は2時間17分となっている。京阪神地区と福岡県を結ぶ航空機とのシェアの割合を比較すると、2022年は、山陽新幹線の利用が87%、航空機の利用が13%となっている。これは、東海道新幹線（東京都～大阪府）の75%を上回っており、西日本の都市間移動において、山陽新幹線が重要な役割を果たしていると言える。

しかし、2020年から新型コロナウイルスが国内で広がると、バスや鉄道、航空機といった公共交通機関の利用者は、2019年比で10～20%まで減少した。その一方で、自家用自動車の需要は拡大した。この頃から各種公共交通機関ではサービスの縮小や転換が目立つようになった。とくに新幹線では、客室乗務員による車内販売サービスを終了するとともに、その商品を保管していたスペースに貨物を積むといったサービスを、法人向けに始めた。山陽新幹線は東海道新幹線との直通運転もおこなっており、東京駅～博多駅で最速4時間46分である。また、高速道路を利用した自動車輸送や航空機と比べると、1回あたりの積載量こそ少ないものの、1日あたりの列車運行本数は、東海道・山陽新幹線で平均300本と多い。移動の速達性と列車が本数の多さという、新幹線ならではの特色をいかしたものである。これにより、朝にとれた野菜や海産物といった生鮮品を、数時間で都市部へ送り届けることができるようになった。

問1. 山陽新幹線が通る6府県のうち、県名と県庁所在地名が異なる県はいくつあるか。数字を答えなさい。

問2. 2025年12月時点で、新幹線の線路が整備されていない地方を、次の①～④から1つ選び、記号で答えなさい。

- ① 北海道地方 ② 九州地方 ③ 北陸地方 ④ 四国地方

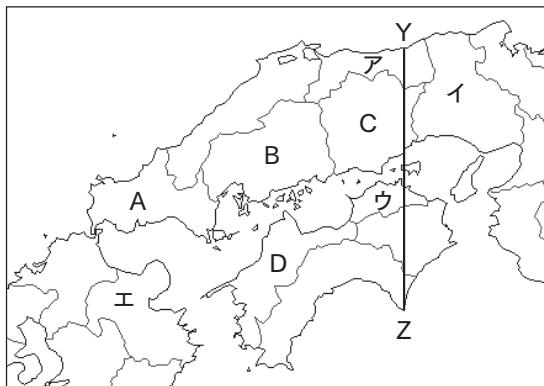
問3. 交通網の発達に関する問いに答えなさい。

(1) 四国地方と近畿地方は、1985年と1998年に開通した2つの橋によって結ばれた。橋の名称の組み合わせとして正しいものを、次の①～④から1つ選び、記号で答えなさい。

- ① 瀬戸大橋 - 大鳴門橋 ② 大鳴門橋 - 明石海峡大橋
③ 瀬戸大橋 - 明石海峡大橋 ④ 大鳴門橋 - 関門橋

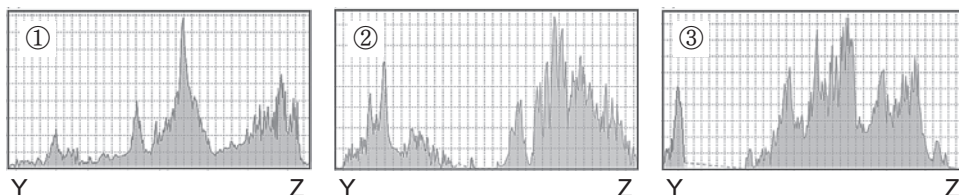
(2) 都市間が交通網で結ばれたことで、大都市へ人が吸い寄せられるように移動する現象を何というか答えなさい。

問4. 【図1】を見て、下の問いに答えなさい。



【図1】

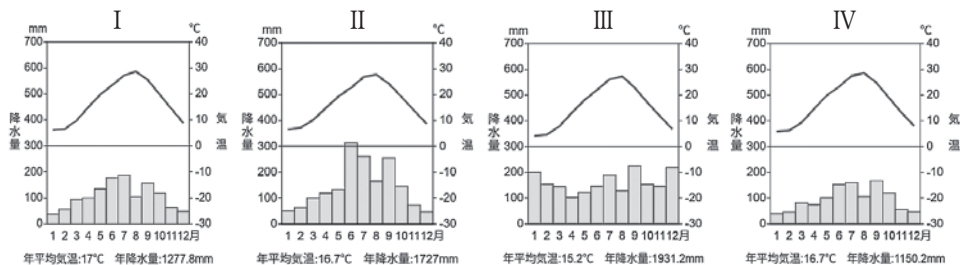
(1) 実線Y-Zの地形の断面図として正しいものを①～③から1つ選び、記号で答えなさい。



(2) 【表1】のa～dは、【図1】のア～エの県におけるため池の数(2025年)を示したものである。また、【図2】はア～エの県庁所在地における気温と降水量のグラフである。ウ県にあたる組み合わせとして正しいものを、次の①～⑧から1つ選び、記号で答えなさい。

【表1】	ため池の数
a	21,357
b	964
c	2,105
d	12,217

(農林水産省ホームページ)



【図2】

- ① a - I ② a - II ③ b - III ④ b - IV
 ⑤ c - I ⑥ c - III ⑦ d - II ⑧ d - IV

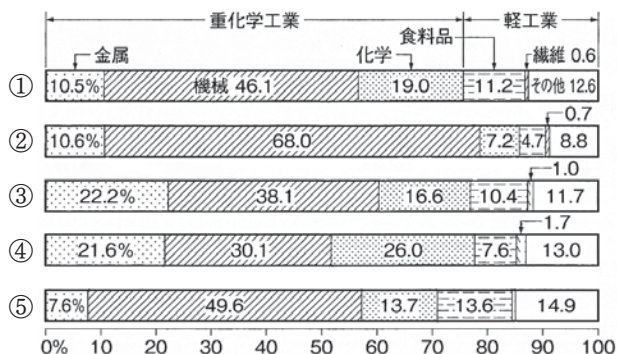
問5. 【表2】は、瀬戸内海に面する県のうち、A～D県の農業および漁業の産出額を示したものである。D県に該当するものを、【表2】の①～④から1つ選び、記号で答えなさい。

【表2】	耕種			畜産	漁業
	米	野菜	果実		
①	247	295	167	691	289
②	305	253	305	857	71
③	139	204	550	301	1085
④	183	166	48	237	153

(令和5年 生産農業所得統計および漁業産出額より)

問6. 四国南部の平野部では、1年を通じてビニールハウスを利用した野菜の栽培がさかんである。この平野を有する県から出荷されるナスは、7月から9月をのぞく時期に出荷量が多く、年間の出荷量も全国1位である。その理由について、栽培方法をあきらかにしながら簡潔に説明しなさい。

問7. 下のグラフは、京浜、中京、東海、阪神、瀬戸内の各工業地帯・地域の工業出荷割合を示したものである。グラフを参考にして、下の問いに答えなさい。



(2025/26『日本国勢図会』より)

(1) 中京工業地帯と阪神工業地帯のグラフを①～⑤からそれぞれ選び、記号で答えなさい。

(2) 瀬戸内工業地域の特徴を述べた文の空欄にあてはまる語句を答えなさい。


海上交通が便利なこと、沿岸の埋立地など工業適地が多いことから、第二次世界大戦後、急速に発達した。徳山・岩国・周南・水島（倉敷）には石油化学 が建設され、水島・福山に進出した製鉄所を中心に重化学工業が急速に伸び、北九州工業地域をしのぐ工業地域となった。

3

神戸市に住む中学生のミナトさんは、身近な地域の歴史や文化について調べ、まとめのノートを作成しました。ノートの内容をみて、あとの問いに答えなさい。


おとめづか
処女塚古墳

昔、現在の芦屋市から、神戸市の生田川あたりまでは菟原（うばら）と呼ばれた。この地で、菟原の乙女という美しい女性が、二人の男性から求婚されたことで悩んだとされる悲恋伝説が残っている。処女塚古墳は、この男女がなくなったことを偲んで、3世紀～4世紀にかけてつくられた(a)前方後円墳。(b)『万葉集』の中で多くの歌人が処女塚伝説について歌っており、古墳の敷地には歌碑もみられる。菟原（うばら）という地名は1896年に廃止されたが、現在も「うはら（うばら）」という名称は神戸市東灘区の多くの施設やイベント名などに存在している。





白鶴酒造資料館

(c) 1910年代に建てられた古い酒蔵が資料館になっている。日本一の酒どころといわれる灘の(d)酒屋・酒造りの歴史や、伝統と技術革新に燃えた酒造家たちの情熱を体感することができる。



←興味を持った展示①

江戸時代前期、船による海上輸送では、灘の酒は多くの日用品と共に運ばれていたが、(e)享保15年(1730年)からは写真1のような船が登場し、より速く、新鮮な酒を運べるようになった。



興味を持った展示②→

写真2は、白鶴酒造が1900年開催のフランスのパリで開催された万博へ参加したときの瓶のラベル。

海外向けの新規ラベルを瓶にあしらい、出品した。それまでの限定的な販路を脱却し、西洋世界に白鶴の存在と日本酒の魅力を広めた。現在日本酒が海外市場で大ブームとなっていることの礎ともいえる。




写真2

～感想・気づいたこと～

自分が住んでいる地域に、古くからの歴史や伝統があることを知った。白鶴酒造記念館を見学したときには、外国人観光客が多くいることに驚いた。2024年、によって、これまで以上に外国人の日本酒に対する関心が高まっているようだ。

問1. 下線部(a)について、日本で前方後円墳がつくられた時期までのおもなできごとを示した次のア～エの文章を、年代の古い順に並びかえなさい。

- ア 邪馬台国の女王卑弥呼が、魏に使節を送った。
- イ 日本が大陸とつながっていた部分が海になり、現在の日本列島の形ができあがった。
- ウ 倭の奴国の国王が漢に使節を送り、金印を授かった。
- エ 倭王の武が南朝に使節を送り、国内での地位を認められた。

問2. 下線部(b)について、次の和歌は、万葉集に収められているものである。この和歌について述べた下の説明文の【P】にあてはまる戦いを何というか答えなさい。また、【Q】にあてはまるものを選択肢の①～④から1つ選び、記号で答えなさい。

熟田津に 船乗りせむと 月待てば 潮もかなひぬ 今は漕ぎ出でな (万葉集より)

説明文 この歌は、7世紀後半に朝鮮半島での戦いに出かける兵士が、熟田津という港から船出する前によんだものである。この兵士が参加した戦いを【P】といい、この戦いで日本は、唐と新羅に滅ぼされた【Q】を救援するために朝鮮半島に軍を送ったが、敗れた。



選択肢

- ① 地図中 a の高句麗 ② 地図中 b の高句麗
- ③ 地図中 a の百済 ④ 地図中 b の百済

問3. 下線部(c)について、1910年代の世界の出来事としてふさわしくないものを、次の①～④から1つ選び、記号で答えなさい。

- ① 日本が韓国を併合した。
- ② 日露戦争がおこる。
- ③ 第一次護憲運動がおこる。
- ④ 第一次世界大戦がはじまる。

問4. 下線部(d)について、室町時代の酒屋や土倉、商人や手工業者は、同業者ごとに座をつくり、営業を独占した。座が営業を独占することができたのはなぜか、当時の地方の有力者とのかわり方をあげて、解答欄にあうように理由を説明しなさい。

問5. 下線部(e)の時期の将軍がおこなった改革の内容について、ア・イの正誤の組み合わせとして正しいものを、次の①～④から1つ選び、記号で答えなさい。

- ア 公事方御定書を定め、民衆の意見を聞く目安箱を設置した。
 - イ 大名が江戸に住む期間を短縮するかわりに、1万石ごとに100石の米を納めさせた。
- ① アー正 イー正 ② アー正 イー誤
 - ③ アー誤 イー正 ④ アー誤 イー誤

問6. ミナトさんのノートの写真1の船についての説明として正しいものをX・Yから選びなさい。また、この船が運航した航路を地図中のA・B・Cから選び、その組み合わせとして適切なものをあとの①～⑥から1つ選び、答えなさい。

X 上方で作られた上質の品物を、大阪から江戸に運んだ。

Y 酒田から出発し、日本海側を通り瀬戸内海から大阪に品物を運んだ。

- ① X - A ② X - B ③ X - C
 ④ Y - A ⑤ Y - B ⑥ Y - C



問7. ミナトさんのノートの空欄 について、空欄に入れるのに最もふさわしいものを、次の①～④から1つ選び、記号で答えなさい。

- ① 止まらない米価高等を抑制するために政府が日本酒の原料の備蓄米を宣伝したこと
 ② アメリカが相互関税を発動し、日本酒に対する関税が15%に引き上げられたこと
 ③ 日本の「伝統的酒造り」がユネスコの無形文化遺産に登録されたこと
 ④ 白鶴酒造などの大手酒造メーカーが、大阪・関西万博で日本酒のPRを行ったこと

問8. クラスメートのケンジさん、サクラさん、ユリさんの3人は、ミナトさんのノートを見て、興味を持った内容について調べ、スライドにまとめた。3人がまとめたカードの内容の正誤についてあらわした①～④から正しいものを1つ選び、記号で答えなさい。

ケンジさんのカード

現在も、「うはら（うばら）」という名称が神戸市東灘区の多くの施設やイベント名などにみられることから、千年以上前の地名や伝説が今も生きていることがわかった。

現在の神戸市立東灘区文化センター（うはらホール）

サクラさんのカード

江戸時代後期に発達した問屋制家内工業によって工場で分業を行い大量生産に成功した灘や伊丹などの酒屋が、現在も大手酒造メーカーとして兵庫県に酒蔵をかまえていることがわかった。

ユリさんのカード

神戸市灘区は、北の六甲山から流れ出す石屋川などの河川が形成した扇状地のもとの良質な地下水と、冬の六甲おろしという寒風、また、兵庫県産の良質な酒造用米など、酒造りに必要な要素がそろっていることから、日本一の酒の生産地となっている。

- ① ケンジさんのみ、内容に誤りがある。
 ② サクラさんのみ、内容に誤りがある。
 ③ ユリさんのみ、内容に誤りがある。
 ④ 3人とも、正しい。

4 次の文章を読み、あとの問いに答えなさい。

2024年(令和6年)から放送を開始した「光る君へ」は、貴族文化が花開いたきらびやかな平安時代中期を舞台にしたもので、この時代は基本的に戦の恐怖がなく、普通に食事が食べられる平和な時代である。このような時代の中で「世界最古の女性文学」と呼ばれる「源氏物語」を書き上げた「紫式部」の人生を描いた物語です。

(a) 女性に学問は不要だと言われていた時代の中、紫式部は、並外れた文学の才を発揮し、その知性と感性によって恋愛長編「源氏物語」を生み出します。また、源氏物語の執筆に欠かせない男性が、時の最高権力者「藤原道長」。藤原道長は天皇に娘を入内させ、天皇の外戚になることを企んでいました。紫式部が生涯想いを寄せ、互いに影響しあった人物です。

日本最古の長編小説と言われる源氏物語は全54帖あり、登場人物も約430人に及ぶ超大作です。そのため現代語訳であっても、内容を細部まで把握して最後まで読み進めることは難しい作品です。

やがて源氏物語の評判は高まり、藤原道長の耳にも届くことに。藤原道長の強い勧めもあり、藤原道長の長女で中宮の「藤原彰子」に仕える女房となります。道長は彰子に教養を授けることで、文学好きな天皇を惹きつけたいという考えがありました。紫式部の仕えた藤原彰子の夫・一条天皇は、源氏物語の愛読者でした。そのため、話の続きを読むことを目的に藤原彰子の後宮へ何度も訪れたと言われていています。藤原道長は自身の娘が時の天皇との仲を深めるチャンスを逃すまいと、当時入手困難であった「紙」を紫式部に贈り、その執筆活動を支援したと伝えられている。

(b) 「紙」の産地として越前国は、紫式部の父「藤原為時」が越前守を務めた国。これにより、紫式部は生涯でただ1度だけ京都を離れ、父とともに越前国で2年暮らしたと伝えられている。雄大な自然や文化はもちろん、「越前和紙」に触れたことが、源氏物語を紡ぐ原動力となったと言われている。その紙を用いて滋賀県大津市にある「石山寺」は、「紫式部」源氏物語を起筆したと言われている場所です。(c) 1004年(寛弘元年)、紫式部は琵琶湖に映る満月を観ながら、7日間参籠して執筆したことが伝えられている。

藤原道長の嫡男(d) 藤原頼通によって宇治にある平等院は建立された。美しい平等院鳳凰堂の建築物の中に、藤原摂関家の栄華をしのぶことができるのです。

問1. 下線部(a)に関して、次の女性作家A～Dとその作家に関する文章a～dの組み合わせとして正しいものを、下の①～④から1つ選び、記号で答えなさい。

A 清少納言 B 与謝野晶子 C 平塚雷鳥 D アンネ＝フランク

a

今日は悲しくゆううつなニュースばかりです。たくさんのユダヤ人のお友達が、いっぺんに 10 人、15 人と検束されています。この人たちは、ゲシュタポからこれっぽちの人間らしいあつかいも受けず、家畜車につめこまれて、ドレンテにあるオランダ最大のユダヤ人収容所、バステルボルクへ送られていきます。

b

1911 年に文芸誌「青鞥」創刊号に寄せた青鞥社の文章は、女性運動の象徴となりました。新婦人協会では、市川房江らとともに活動し、女性の政治団体加入へ集会参加の権利を獲得しました。

c

ああをとうとよ君を泣く君死にたまふことなかれ末に生まれし君なれば親のなさはまさりしも親は刃をにぎらせて人を殺せとをしへしや人を殺して死ぬよとて二十四までをそだてしや

d

父親は朝廷の役所に勤める中流貴族で呼び名は父親の官職にちなんだものでした。天皇やきさきに仕えた女性の多くは、こうした中流貴族の娘たちでした。豊かな教養を身につけていた彼女らは和歌や知的な会話の場面で、男性の高級貴族と対等にわたり合いました。

- ① A-a B-b C-c D-d ② A-d B-a C-b D-c
③ A-d B-c C-b D-a ④ A-c B-d C-b D-a

問 2. 下線部(b)に関して、下の日本地図のうち越前はどこか。①～④から 1 つ選び、記号で答えなさい。



問3. 下線部(c)に関して、11世紀に起こった出来事としてあてはまるものを、次の①～④から1つ選び、記号で答えなさい。

- ① フビライは、大都に都を置いて、中国風の「元」という国名をつけ、中国の地方支配の制度を取り入れました。
- ② ポルトガルがアフリカ南端に到達して、バスコダガマがインドに到達して、ヨーロッパとインドが海路で直接つながりました。
- ③ ローマ教皇が、大聖堂建築のための資金を集めようとして免罪符を売り出すと、これを批判してドイツではルターが宗教改革を始めました。
- ④ 中国の宋の時代には商業の活性化にともない銅銭が大量に発行された。銅銭は日宋貿易を介して日本に持ち出され日本の貨幣経済の進展をうながした。

問4. 下線部(d)に関して、藤原頼通によって建立された寺は下のうちどれか。次の①～④から1つ選び、またこの時代の文化の特色として正しいものをA～Dから選び、記号で答えなさい。



- A 仏教の力により伝染病や災害などの不安から国家を守ろうと考えた。そこで国ごとに国分寺や国分尼寺を建てた。
- B 唐風の文化を基にしなが、日本の風土や生活、日本人の感情にあった文化を生み出していった。
- C 社会の安定と都市の繁栄を背景に、上方を中心に、経済力をつけた新興の町人を担い手とする文化が栄えた。
- D 民衆や武士の心のよりどころとして、新しい仏教が起こった。この時代の仏教は難しい修業が不要だったので、多くの人々の心をとらえた。

5 あとの問いに答えなさい。


問1. 次の文章は、「命のビザ」について述べたものである。この文章を参考にして、右の写真の人物の名前を下の①～④から1つ選び、記号で答えなさい。

第二次世界大戦のさなかの1940年7月、ポーランドのユダヤ人がナチス・ドイツの迫害から逃れるため、ソ連と日本を通過してアメリカなどにわたろうと、リトアニアの日本領事館に押し寄せてきました。当時、領事代理であった写真の人物は、ドイツと同盟関係にあった日本政府の意向を無視して、1か月余りにわたり、寸暇を惜しんでビザ（査証）を書き続け、約6000人も命を救ったと言われています。この人道的な行為は、同様に多数のユダヤ人を救ったドイツ人実業家のオスカー・シンドラと並んで、国際的に高く評価されています。



- ① 杉原千畝 ② 梶井基次郎 ③ 松岡洋右 ④ 東条英機

問2. 右の写真は、日中戦争下の日本において、女学生が工場で働く様子を写したものである。このことに関連して、政府は議会の承認なしに国民を強制的に働かせることができる法律を制定した。この法令を何というか、答えなさい。



問3. 次の新聞記事（抜粋）を読んで、下の問いに答えなさい。

・・・9月にわたる対米交渉にもかかわらず、アメリカ政府は日本の真意を理解せず、戦争の準備をしている。そこで、政府は12月8日午前8時半に、交渉打ち切りを発表し、アメリカ・イギリスと戦闘状態に入った。・・・

(1) この記事が伝えている「出来事の名称」を答えなさい。

(2) 空襲が激しくなると、写真のような集団疎開の光景が各地で見られるようになった。集団疎開は、どのような所に住んでいた子ども達が、どのような目的で行ったものか。簡潔に説明しなさい。



6 次の文章を読み、あとの問いに答えなさい。

数多くの命が失われた(a)先の大戦の終戦から80年となった2025年8月15日、政府主催の全国戦没者追悼式が日本武道館で開かれ、悲劇を繰り返すまいという願いという不戦の誓いを新たにされた。日本人の約310万人が亡くなり、(b)アジア諸国でも2千万人以上が犠牲になったとされる。遺族代表は追悼の辞で(c)世界の紛争や対立に触れ「今こそ、平和の尊さを世界へ訴えることが求められている」と述べた。天皇陛下はお言葉で「戦中・戦後の苦難を今後とも語り継ぎ」との一節を新たに加え「将来にわたって平和と人々の幸せを希求し続けていくことを願う」と読み上げられた。

厚生労働省によると、事前に参列意向を示した遺族約3400人のうち、戦後生まれが約1800人で53%を占め、初めて半数を超えた。戦後80年となり、戦争を知る遺族らの(d)高齢化が進み、戦後生まれが総人口の9割近くに達し、体験者の証言を直接聞ける時代は終わりに近づきつつある。戦争の惨禍を知る世代が確実に減少しており、苦難を語り継ぎ、平和の尊さを次代に伝えていくことや、記憶継承の在り方が問われている。

先の大戦以降、日本は直接的に戦争には参加していない。しかしながら日本の同盟国や、国際連合に加盟する世界の国々の大半は(e)民主主義を掲げている国家にもかかわらず、戦争・紛争・テロは繰り返されている。世界に誇れる平和憲法である日本国憲法のもとで、世界平和に寄与するための我が国の役割を考えなければならない。

上記のような戦争問題だけではなく、現代を生きる我々は、様々な問題と向き合わなければならない。自国第一主義から生じる貿易戦争。人口減少や人口爆発など地域格差も大きな課題である。今夏の日本も記録的な暑さであったように、(f)環境破壊も地球的規模で取り組まなければならない問題である。グローバルな取り組みが必要とされる今だからこそ、互いの文化を尊重し協調することが重要ではないだろうか。

問1. 下線部(a)に関して、1945年に太平洋戦争は終戦を迎えた。憲法の平和主義と日本の安全保障の関係について述べた文として適当でないものを次の①～④から1つ選び、記号で答えなさい。

- ① 日米安全保障条約では、他国が日本の領土を攻撃した時に、共同して対応できるように、アメリカ軍の日本国内への駐留を認めて、基地を提供している。
- ② 日本政府は憲法解釈上、自国が攻撃されたときに自国を防衛するために必要最小限度の実力を用いる個別的自衛権のみを認めている。
- ③ 自衛隊は国際貢献のために国連のPKOへの参加をはじめとする平和協力活動などを行っている。安全保障関連法ではPKO参加部隊の要件が緩和され、海外派遣も可能となった。
- ④ シベリアンコントロールとは、自衛隊を指揮・統括する内閣総理大臣や国務大臣は文民でなければならない、国会が法律や予算により自衛隊を統制し防衛出動の承認権をもつことである。

問2. 下線部(b)に関連して、先進国の政府が発展途上国、または国際機関に対して資金援助や技術協力をを行う、政府開発援助の略称をアルファベット3文字で答えなさい。

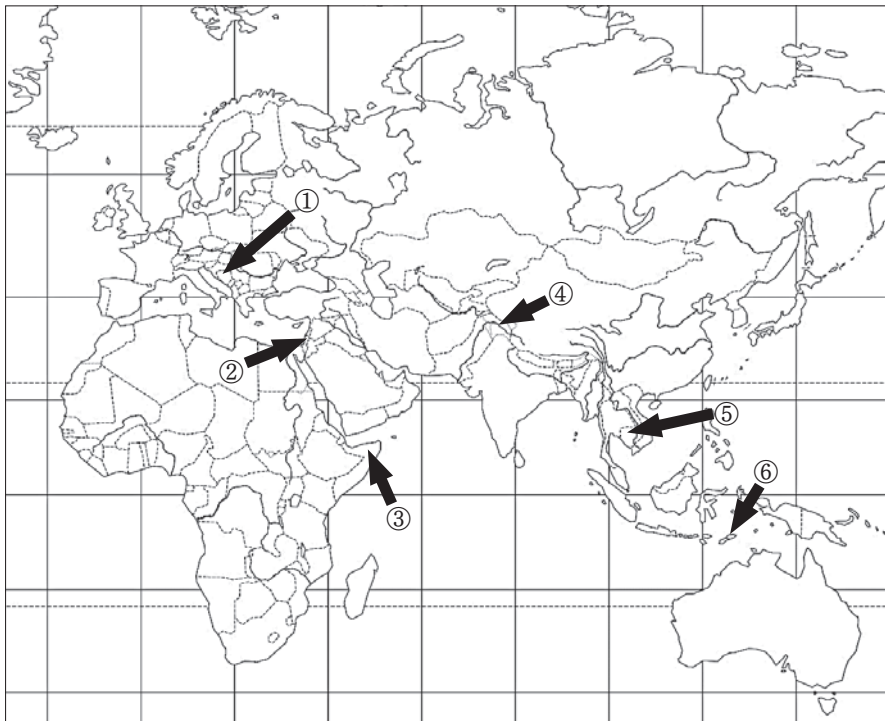
問3. 下線部(c)に関連した次の設問に答えなさい。

(1) 次の X・Y の文が示す紛争を下のア～カから選び、またその紛争が起こった場所を地図中①～⑥から選び、それぞれ記号で答えなさい。

X 1991年から続く内戦で、激しい部族対立により400万人が飢餓に直面した。国連はアメリカを中心とする多国籍軍を派遣したが、武装解除が実現せず国連PKOは失敗した。対立は形を変えて現在も続いている。

Y 現在まで60年を越えて続く、ユダヤ人とアラブ人の対立。周囲のアラブ諸国とイスラエルの間で4度の中東戦争があった。

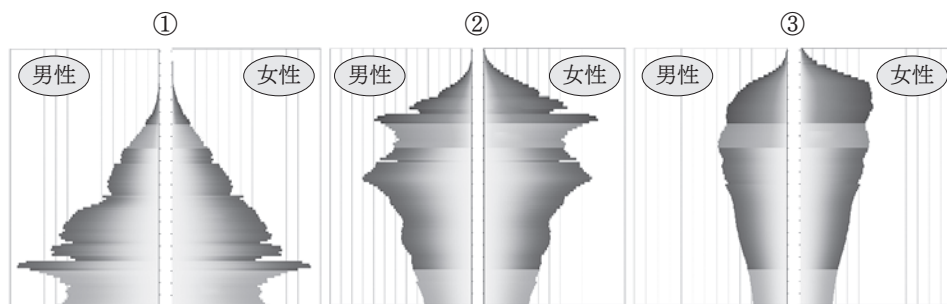
ア カシミール紛争 イ ソマリア内戦 ウ 東ティモール独立運動
エ パレスチナ問題 オ カンボジア紛争 カ ユーゴスラビア紛争



(2) 上のア～カの紛争のうち、国連のPKO活動に日本が参加したものを2つ選び、それぞれ記号で答えなさい。

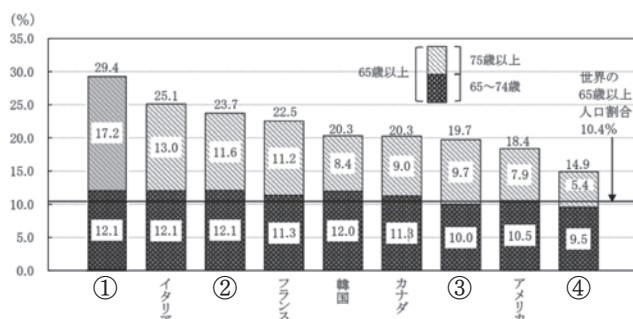
- (3) 下線部(d)の高齢化に関連して、【図1】日本の年齢別人口割合の推移と将来推計①～③のうちから2025年のグラフを選び、【図2】主要国における65歳人口の割合の比較から、日本を示すものを記号で選びなさい。(【図2】①～④には中国・ドイツ・イギリス・日本があてはまる)

【図1】 日本の年齢別人口割合の推移と将来推計



(国立社会保障・人口問題研究所)

【図2】 人口に占める高齢者の割合の推移と将来の推計



(総務省統計局)

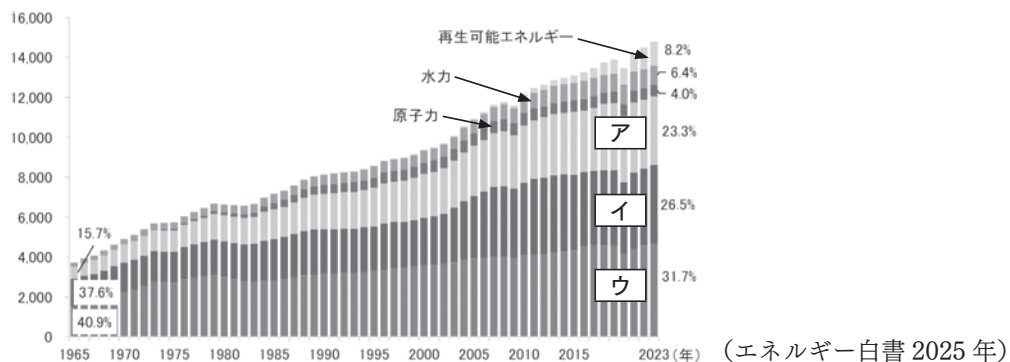
問4. 下線部(e)の民主主義に関する次の文章を読み、下の設問に答えなさい。

民主主義は、一人の指導者がすべてを決定するのではなく、国民全体で話し合っ
て決める制度であり、その前提として、国民主権・平等権、(A)自由権などの基本的
人権や、個人の尊重などが不可欠である。民主政治は一般に、(B)国民の代表者
である議員がつくる議会によって行われる。日本では国の政治の中心に国会が置
かれている。

- (1) 下線部(A)の自由権の説明として正しいものを次の①～④から1つ選び、記号で答えなさい。
- ① 20世紀以降、人が人間らしく生活できるように国が保障し、国民は健康で文化的な最低限度の生活を営む権利を有する。
 - ② 私たちが国の政治の在り方に関心を持ち、積極的に政治に参加する権利。
 - ③ すべて国民は、人種、信条、性別、社会的身分などを理由に差別されないと定め、こうした差別を禁止している。
 - ④ 勤労者の団結する権利及び団体交渉その他の団体行動をする権利は、これを保障する。

(2) 下線部(B)について、議会を通じて国民の意思を政治に反映させる制度のことを何というか、漢字で答えなさい。

問5. 下線部(f)について、以下の図は世界の一次エネルギー消費量の推移を示している。図中のア～ウにあてはまる語句の組み合わせとして正しいものを、次の中から1つ選びなさい。



- | | | | |
|---|--------|--------|--------|
| ① | アー石炭 | イー石油 | ウー天然ガス |
| ② | アー石炭 | イー天然ガス | ウー石油 |
| ③ | アー石油 | イー石炭 | ウー天然ガス |
| ④ | アー石油 | イー天然ガス | ウー石炭 |
| ⑤ | アー天然ガス | イー石炭 | ウー石油 |
| ⑥ | アー天然ガス | イー石油 | ウー石炭 |

7

次の文は、とあるスーパーでトライやるウィークを体験した生徒XとA先生の会話である。あとの問いに答えなさい。

生徒X：私がトライやるウィークに参加した時期はとても暑く、アイスクリームの売り上げがとても多かったです。

A先生：そうなんだね。アイスクリームの売り上げが多かった理由として、気候以外に考えられることはある？

生徒X：アイスクリームの(a)価格も売り上げが多かった理由かもしれません。

A先生：もう少し詳しく説明してもらえるかな？

生徒X：月曜日と金曜日がアイスクリームの特売日になっていて、その2日間の売り上げは他の曜日よりも多かったです。ただ、「(b)原材料価格が高くなり、メーカーからの出荷数が減り、普段の商品価格は以前より値上がりしていて、アイスクリームの売り上げが伸び悩んでいる」と店長さんはおっしゃっていました。

A先生：確かに、私も特売日を狙って買い物に行ったりするから、価格は消費者の購買行動に大きな影響を与えていると言えるでしょうね。

生徒X：ただ、スーパーの店長さんが、「(c)この周辺には、スーパーが我々の店舗しかなく、売り上げを独占している状態なので、もっとスーパーの店舗数が増えれば価格競争がもっと行われ、より安い価格でお客さんに商品を提供することが出来る」とも言っていました。

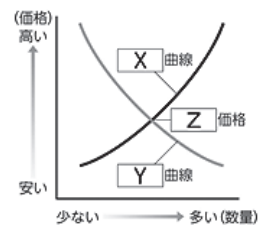
A先生：なるほどね。その視点も市場経済を考える上では重要な視点だね。

問1. 下線部(a)の価格に関して、以下の文のような状態を何というか。

携帯電話の通信会社のように、少数の企業が市場を支配する状態

問2. 下線部(b)の場合、【図1】の曲線はどのように動くか。正しいものを次の①～④から1つ選び、記号で答えなさい。また、2つの曲線が交わる点Zにあてはまる語句を答えなさい。

- ① X曲線が左に移動する。 ② X曲線が右に移動する。
③ Y曲線が左に移動する。 ④ Y曲線が右に移動する。



【図1】

問3. 下線部(c)に関連して、次の各問いに答えなさい。

- (1) 政府は公正かつ自由な競争を促し、消費者の利益を守るためにある法律を制定している。その法律を答えなさい。
(2) (1)の法律を運用している組織の名称を答えなさい。

社会科解答用紙

※印の枠内には記入しないでください。

1	問1	月	日	時	問2	I	II	III	問3			
	問4											
1	問5	(1)	記号	山脈	(2)	都市	湖					
		(3)			(4)			(5)				
2	問1	問2	問3	(1)	(2)	問4	(1)	(2)	問5			
	問6											
	問7	(1)	中京	阪神	(2)							
3	問1	→	→	→	問2	P	記号	問3				
	問4	営業を独占する権利を認められたから。										
	問5	問6	問7	問8								
4	問1	問2	問3	問4	寺	特色						
5	問1	問2										
	問3	(1)			(2)							
6	問1	問2									
	問3	(1)	X	紛争	場所	Y	紛争	場所	(2)	(3)	図1	図2
	問4	(1)			(2)	問5						
7	問1	問2	記号	語句	価格	問3	(1)	(2)				

※

※

※

※

※

※

※

受験番号		名前		※
------	--	----	--	---